

**Демонстрационный вариант
География (стартовая работа)**

8 класс

Дополнительные материалы: географический атлас для 7 класса

Продолжительность работы: 45 минут

1

На каком из перечисленных островов наиболее вероятны сильные землетрясения?

- 1) Ирландия
- 2) Мадагаскар
- 3) Шри-Ланка
- 4) Суматра

2

Верны ли следующие утверждения о климатических поясах?

А. В субарктическом климатическом поясе круглый год господствуют арктические воздушные массы.

Б. В экваториальном климатическом поясе выпадает много атмосферных осадков, нет смены сезонов года.

- 1) верно только А
- 2) верно только Б
- 3) верны оба утверждения
- 4) оба утверждения неверны

Ответы на задания 3–12 запишите в указанном месте

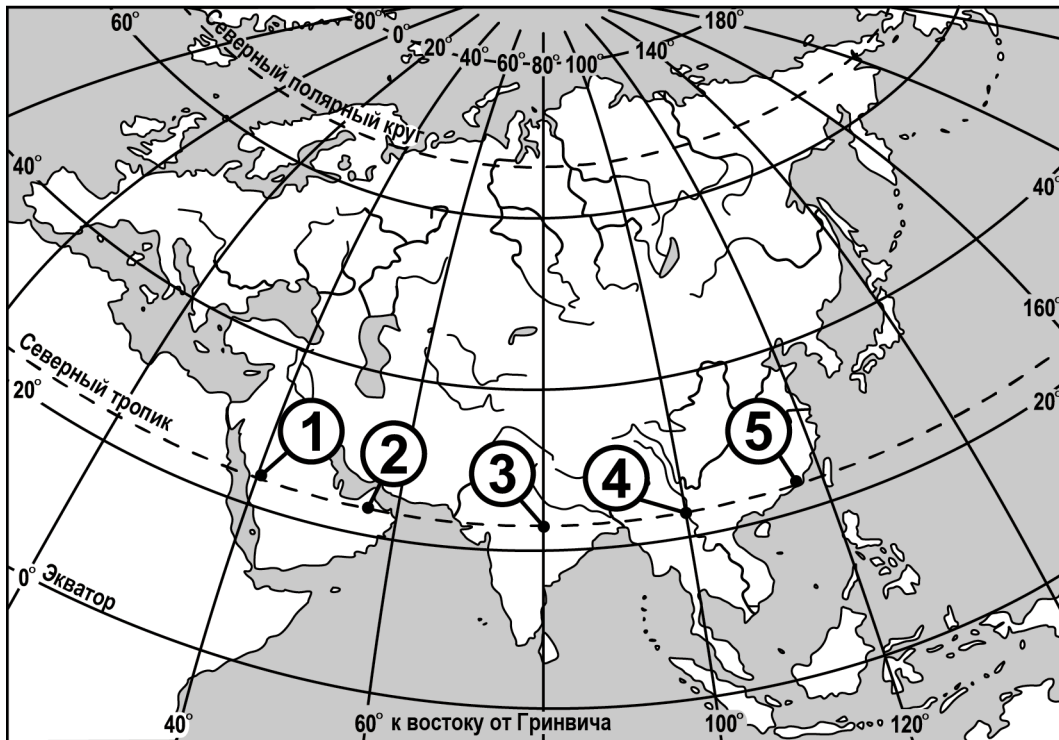
3

Город Анцирабе имеет географические координаты 19° 59' ю.ш. 47° 03' в.д. Определите, на каком острове находится этот город.

Ответ: остров _____ .

4

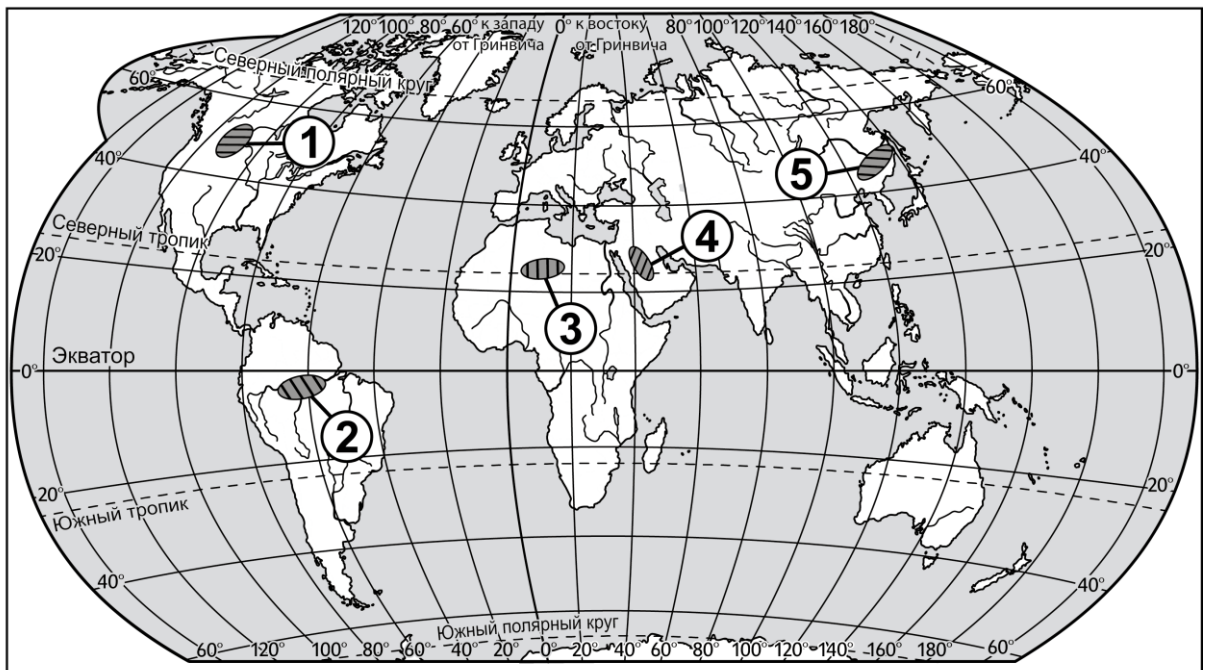
Определите, в каком из пунктов, обозначенных цифрами на карте Евразии, 21 марта Солнце поднимется **раньше** всего?



Ответ:

5

На каких двух из обозначенных цифрами на карте мира территорий распространены пустыни? Запишите в таблицу соответствующие цифры.



Ответ:

6

Расположите перечисленные ниже горы в порядке увеличения абсолютной высоты их высочайших вершин, начиная с гор с наименьшей высотой.

- 1) Скандинавские
- 2) Анды
- 3) Гималаи

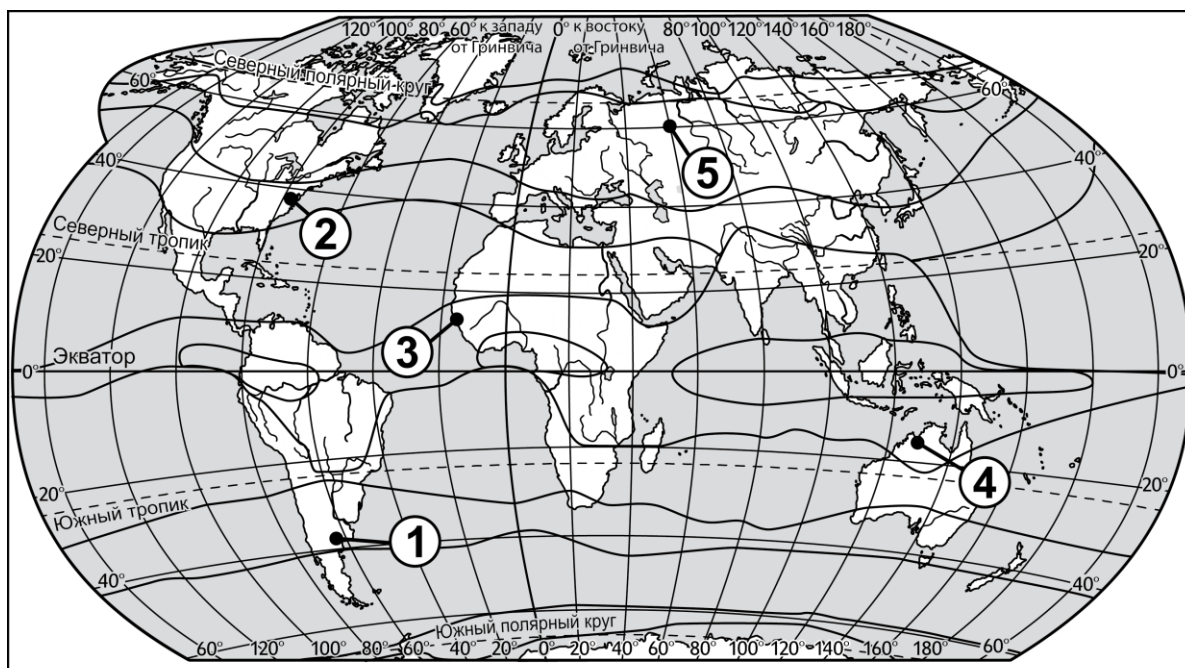
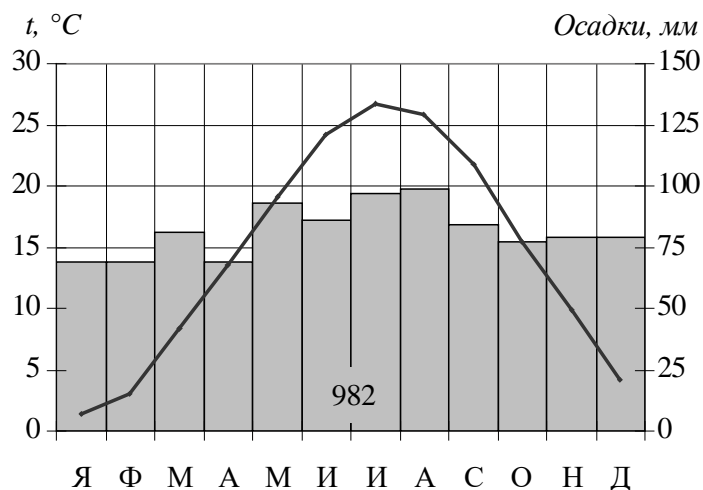
Запишите в таблицу получившуюся последовательность цифр.

Ответ:

--	--	--

7

Проанализируйте климатограмму и определите, какой цифрой на карте обозначен пункт, характеристики климата которого отражены в климатограмме.



~ границы климатических поясов

Ответ:

--

Задание 8 выполняется с использованием политической карты и карты природных зон.

8

Прочитайте текст, в котором пропущены некоторые слова. Выберите из пронумерованного списка слова, которые необходимо вставить на место пропусков (при необходимости форму слова можно изменить).

Учёные-этнографы с целью проведения исследований направляются из г. Мапуту (столица Мозамбика, государства на юго-востоке Африки) в Бразилию, г. Манаус – порт на реке _____ (А). Они попадут из _____ (Б) климатического пояса в экваториальный пояс. В труднодоступных районах Амазонии путешественники проведут исследование традиций индейских племён. Завершить свое путешествие исследователи планируют в столице Бразилии – городе _____ (В).

Каждое слово может быть использовано только один раз. Обратите внимание на то, что слов в списке больше, чем Вам потребуется для заполнения пропусков.

Список слов:

- 1) Парана
- 2) Амазонка
- 3) тропический
- 4) субэкваториальный
- 5) Рио-де-Жанейро
- 6) Бразилиа

Запишите в таблицу под каждой буквой номер соответствующего слова.

А	Б	В
Ответ:		

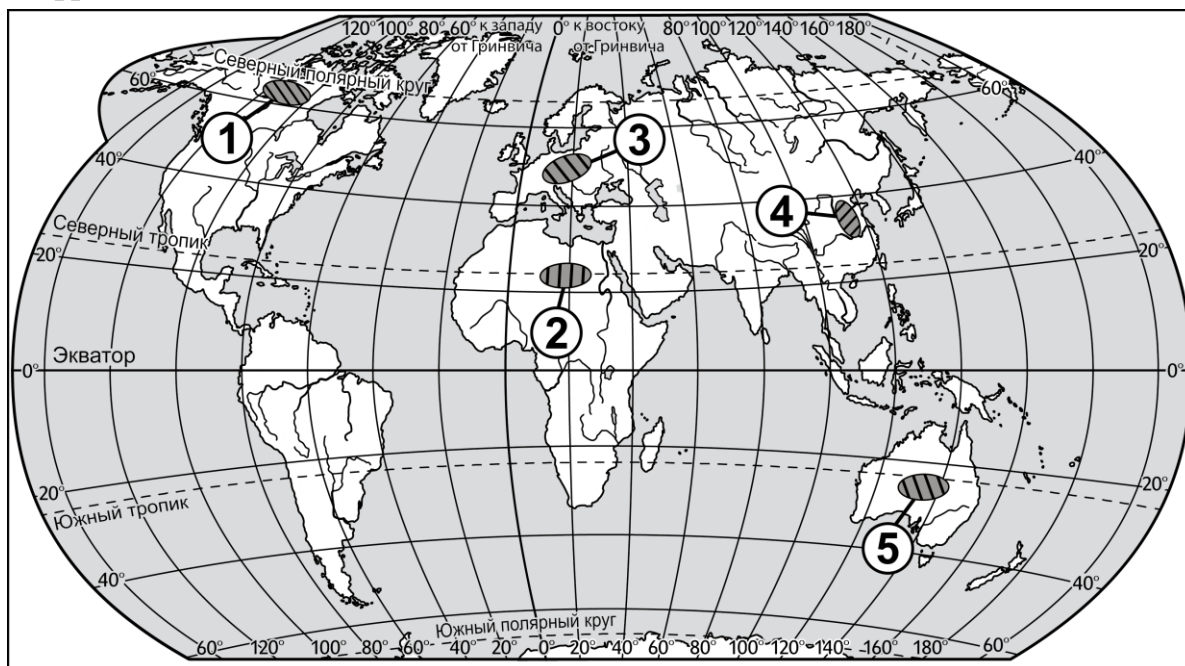
9

Средняя солёность поверхностных вод Охотского моря составляет 33‰. Определите, сколько граммов солей растворено в 3 литрах его воды. В ответе напишите только число.

Ответ: _____ г

10

Какие две из обозначенных цифрами на карте мира территории являются наиболее густонаселёнными? Запишите в таблицу соответствующие цифры.



Ответ:

--	--

11

Определите море по его краткому описанию.

Это крайнее море самого большого по величине океана названо в честь великого голландского мореплавателя XVII столетия. Находится в субтропическом климатическом поясе. Температура поверхностных вод изменяется от 9–15 °С в южной части моря до 23–27 °С в его северной части. Солёность поверхностных вод составляет 35–35,5‰.

Ответ: _____ море.

12

Определите страну по ее краткому описанию.

Эта страна – одна из крупнейших в мире по площади территории и численности населения. Имеет выход к трем морям одного океана. По ее территории протекают две великие реки. Является родиной многих культурных растений: риса, проса, сои, чая. На ее территории ведется добыча угля, железных руд и руд многих цветных металлов.

Ответ: _____.

Ответы на задания

№ задания	Ответ
<i>1</i>	4
<i>2</i>	2
<i>3</i>	Мадагаскар
<i>4</i>	5
<i>5</i>	34
<i>6</i>	123

№ задания	Ответ
<i>7</i>	2
<i>8</i>	236
<i>9</i>	99
<i>10</i>	34
<i>11</i>	Тасманово
<i>12</i>	Китай